


# Mathematik / Grundrechenarten




Matheaufgaben für die 1. Klasse und Vorschule: Grafiken zählen bis 10

Wie viele Bilder findest Du von jeder Sorte?


1



---

 = \_\_\_\_\_       = \_\_\_\_\_       = \_\_\_\_\_


2






---

 = \_\_\_\_\_       = \_\_\_\_\_       = \_\_\_\_\_

3



---

 = \_\_\_\_\_       = \_\_\_\_\_       = \_\_\_\_\_

# Mathematik / Grundrechenarten

Matheaufgaben für die 1. Klasse und Vorschule: Grafiken zählen bis 10

## Lösungen

1

$$\text{Fisch} = 3$$

$$\text{Blume} = 8$$

$$\text{Schmetterling} = 4$$

2

$$\text{Bürste} = 5$$

$$\text{Wecker} = 5$$

$$\text{Socke} = 5$$

3

$$\text{Sonne} = 4$$

$$\text{Wolke} = 8$$

$$\text{Blitz} = 4$$